

AZƏRBAYCAN DİLİ

1-5-ci suallar aşağıdakı mətn əsasında hazırlanmışdır.



Gəlin yaddaşımızda hər zaman öz xoşbəxtliyi və dostları ilə birlikdə nikbinliyi aşılamağa çalışan Mikkinin yaranma tarixinə daha yaxından nəzər salaq.


Volter Disney cizgi filmlərini qəzetdə dərc etməklə müntəzəm gəlir əldə edə bilməyən bir kilsə qarajında işləyirdi. Bu qaraja siçovullar gəlir. Siçanlardan çox qorxan Disney bu vəziyyəti öz zehində canlandırmaq üçün siçan karikaturalarını çəkməyə başlayır.

Belə ki, bu qorxu onu fərqiə varmadan dünyanın ən məşhur cizgi filmi personajını yaratmağa sövq etdi.

Zamanla cizgi filminə Qufi, Donald Dak, Dizi Dak, Pluton personajları da qoşuldu. Xarakter sayı artdıqca dostluq, paylaşma, sevgi kimi nümunə olacaq bir çox mövzu davamlı şəkildə işlənirdi.

İkinci Dünya Müharibəsindən sonra Mikki gözdən düşməyə başladı. Amma sonradan o, əvvəlki populyarlığını bərpa edir.

Dostumuz macəraçı, gülməli və həmişə pozitiv olub. Hollivudun məşhur “Şöhrət xiyabanı”nda görünən ilk cizgi filmi qəhrəmanı da məhz odur.



1. Aşağıdakı cümlə neçənci abzasın əvvəllinə artırıla bilər?

Belə bir sevimli personaj əslində xoşagəlməz bir hadisədən yaranmışdı.

- A) II B) III C) IV D) V

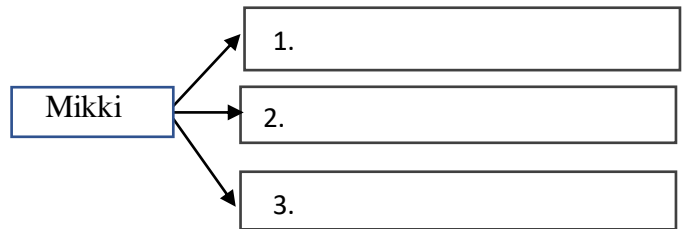
2. Hansı fikri Volter Disneyin düşdüyü vəziyyətlə əlaqələndirmək olar?

- A) Qorxu qorxduğun şeydən daha çox ziyan vurur. Bundan qurtuluş insanın öz bacarığına baxır.
B) Zəngin insana çevrilmək yaxşı bir işin olmasından asılıdır. Bunu hər insan bacarmaz.
C) Zəmanəsinin zövqünü oxşayan insan qalibdir. Bunun üçün yol ancaq cizgi filmlərindən keçir.
D) Müharibələr inkişafı mane olur. Disney də müharibə qurbanlarından biri olur.

3. Mətnin nəticə hissəsi ilə ziddiyyət təşkil edən cümlə:

- A) Mikki bədbin obrazdır.
B) “Şöhrət xiyabanı”nda adı yazılan ilk Cizgi filmi qəhrəmanıdır.
C) Nikbin obrazdır.
D) Hollivudun Cizgi filmi qəhrəmanıdır.

4. Mətn əsasında Klasteri tamamlayın.



1. Kilsə qarajında işləyir.
2. Qorxunu dəf etmək üçün yaradılmış obrazdır.
3. İlk dəfə karikatura şəklində üzə çıxır.
4. Heç zaman gündəmdən düşməyib.
5. Qəzetdə işləyəndə uğur əldə edə bilmir.
6. İzləyicilərinə gülüş bəxş edir.

- A) 2, 3, 4 B) 1, 2, 4
C) 2, 3, 6 D) 1, 3, 5

5. Kursivlə verilmiş (maili yazılmış) sözü əvəz etmək olar:

- A) calamaq B) təbliğ etmək
C) birləşdirmək D) qələmə vermək

6. Hansı feilə zaman şəkilçisi artırmaq olmur?

- A) oxu B) gətir
C) qaz D) gəlmək

7. Sözlər haqqında verilmiş düzgün şərh müəyyən edin.

- A) yazmışsınız; “yaz” sözün kökü, -miş zaman şəkilçisi, -sınız şəxs sonluğudur.
 B) gəldiniz; “gəl” sözün kökü, -din zaman şəkilçisi, -iz şəxs sonluğudur.
 C) quracağıq; “qur” sözün kökü, -aca zaman şəkilçisi, -ğiq şəxs sonluğudur.
 D) gəldik; “gəl” sözün kökü, -dik zaman şəkilçisidir.

8. “Külək” sözü ismin hansı hallarında işləndikdə söz kökündəki samitin yazılış deyilişindən fərqlənir?

1. Adlıq 2. Yiyəlik 3. Yönlük
 4. Təsirlik 5. Yerlik 6. Çıxışlıq
 A) 1, 4, 5 B) 2, 3, 4
 C) 1, 3, 4 D) 2, 3, 5

9. Nümunələrdən birini sual cümləsinə çevirmək olmur:

- A) Yolumuzdan çəkilin.
 B) Bizə bu gün gələcəksən.
 C) Bellənmiş ərazilərə toxum səpildi.
 D) Gecələri nənəsigildə qalırdı.

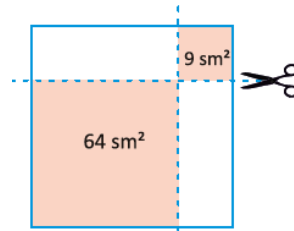
10. Verilmiş nümunə ilə bağlı səhv fikri müəyyən edin.

Xalqın *əzəməti*, fikri, xəyalı,
 Onun hissi, zövqü, **ağlı, kamalı**,
Sanma bir qılıncda, bir hünərdədir.
 Onlar bu sazlarda, bu sözlərdədir.

1. Tünd şriflə verilmiş sözlər sinonim sayıla bilər.
 2. Altından dalğalı xətt çəkilmiş sözün müxtəlif nitq hissələrinə aid omonimliyi var.
 3. Kursivlə verilmiş sözün mənası “cəsarət” deməkdir.
 4. Altından xətt çəkilmiş sözün sinonimi “hesablama” ismidir.
 A) 1, 3 B) 3, 4 C) 1, 2 D) 2, 3

RİYAZİYYAT

1. Anar kvadrat şəklində bir kağızı şəkildəki kimi qırıq xətlərlə müəyyənləşdirilən yerlərdən kəsərək iki kvadrat əldə edir. Kəsilən kvadratların sahələri 9 sm^2 və 64 sm^2 olduğuna görə başlanğıcdakı kvadratın sahəsi neçə sm^2 idi?



- A) 81 B) 90 C) 100 D) 121

2. Aşağıdakı bölmə əməlinə A ədədi aşağıdakılardan hansı ola bilməz?

$$\begin{array}{r} A \quad | \quad 17 \\ \hline \quad \quad | \quad 16 \\ \hline \hline \quad \quad | \quad k \end{array}$$

- A) 272 B) 286 C) 288 D) 289

3. Satıcı almaların üçdə iki hissəsinin hər kq-dan 1,5 manat, qalan üçdə bir hissəsinin hər kq-dan 2 manat qazandı. Satıcı ümumilikdə 350 manat qazanmışsa, neçə kiloqram alma satmışdır?
 A) 150 B) 180 C) 198 D) 210

4. Şəkildə AB parçası BC parçasından 2 dəfə, BC parçası isə CD parçasından 3 dəfə uzundur. $AD = 50 \text{ sm}$ olarsa, BD parçasının uzunluğu neçə sm olar?



- A) 20 B) 25 C) 30 D) 15

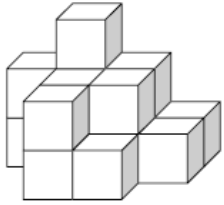
5. Çıxma əməlinə azalan, çıxılan və fərqi cəmi 1600-dür. Çıxılan fərqi $\frac{3}{5}$ -ünə bərabər olarsa, fərqi tapın.
 A) 800 B) 500 C) 300 D) 100

6. Aşağıdakı toplama əməlinə x, y, z hərflərinin hər biri fərqli rəqəm olarsa, x neçə olar?

$$\begin{array}{r} x \\ x \\ + yy \\ \hline zzz \end{array}$$

- A) 9 B) 8 C) 6 D) 5

7. Aşağıdakı fiqur eyni ölçülü kiçik kublardan ibarətdir. Kiçik kubların sayını tapın.

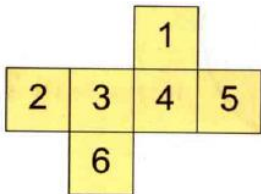


- A) 21 B) 18 C) 16 D) 12

8. Mağazada kassa növbəsində 47 nəfər var. Əvvəldən 29-cu adam ilə sondan 29-cu adam arasında neçə nəfər var?

- A) 0 B) 8 C) 9 D) 10

9. Aşağıda bir kubun açıq forması verilmişdir. Bu fiquru yenidən kub vəziyyətinə gətirsək, aşağıda verilən hansı üzler bir-biri ilə qarşı üzler olacaq?



- A) B)
C) D)

10. Tahir metal pulları aşağıdakı kimi müəyyən ardıcılıqla düzür. O, 50-ci fiqurda neçə metal pul istifadə edər?



- Figur 1 Figur 2 Figur 3
A) 140 B) 150 C) 155 D) 160